

Nazwisko	Imię	Szkoła	Liczba punktów (wypełnia sprawdzający)



XXI LICEUM OGÓLNOKSZTAŁCĄCE

im. św. St. Kostki w Lublinie

MIĘDZYSZKOLNY KONKURS GEOGRAFICZNY

O ZASIĘGU WOJEWÓDZKIM

DLA GIMNAZJALISTÓW

„WĘDRUJEMY PO MAPIE ŚWIATA”

Część I

Czas pracy: 30 minut

17 MARZEC

Liczba punktów możliwych

ROK 2012

do uzyskania: 35

- ❖ Arkusz liczy 10 stron (numerowanych) i zawiera 22 zadania.
- ❖ Przed rozpoczęciem pracy sprawdź czy Twój test jest kompletny. Jeżeli zauważysz usterki, zgłoś je Komisji Konkursowej.
- ❖ W pytaniach w formie testu wyboru wybierz jedną poprawną odpowiedź i ją zakreśl.
- ❖ W pozostałych pytaniach udzielaj krótkich odpowiedzi lub właściwie przyporządkuj podane wyrazy.
- ❖ Pisz długopisem bądź piórem. Nie używaj korektora.

Życzymy powodzenia!

Zad.1 (0 – 1p)

Mapą przeglądową jest mapa w skali:

- a) 1: 50 000
- b) 1: 4 000 000
- c) 1: 300 000
- d) 1: 750 000

Zad.2 (0 – 1p)

Na mapie topograficznej w skali 1:20 000 odległość między dwoma miejscowościami C i D wynosi 10 cm . Ile wynosi czas przejazdu rowerem między tymi miejscowościami przy założeniu średniej prędkości 10 km/h:

- a) 20 minut
- b) 120 minut
- c) 12 minut
- d) 80 minut

Zad.3 (0 – 1p)

Jaka jest skala mapy na której kwadrat o boku 2 cm przedstawia obszar o powierzchni 1 km² w terenie:

- a) 1: 50 000
- b) 1: 1 000 000
- c) 1cm – 50 km
- d) 1cm – 100 km

Zad.4 (0 – 1p)

Przedstawienie na mapie gęstości zaludnienia różnymi odcieniami jednego koloru to zastosowanie:

- a) metody zasięgów
- b) kartogramu
- c) metody sygnaturowej
- d) kartodiagramu

Zad.5 (0 – 1p)

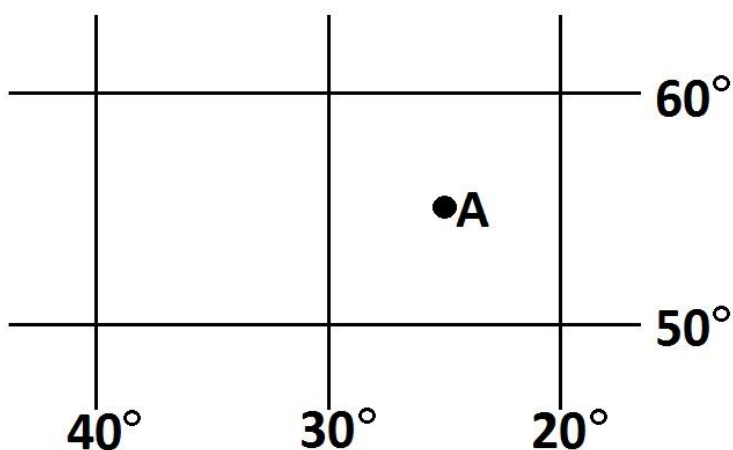
Obraz Ziemi, który nie uwzględnia jej krzywizny oraz skali to:

- a) mapa
- b) globus
- c) plan
- d) szkic

Zad.6 (0 – 1p)

Wybierz odpowiedź, która poprawnie podaje obie współrzędne geograficzne punktu **A**:

- a) 55°N; 25°W
- b) 55°N; 35°E
- c) 25°N; 55°W
- d) 65°S; 3°E



Zad.7 (0 – 1p)

Które z wymienionych niżej państw lub terytoriów Europy jest wysunięte najbardziej na południe:

- a) Gibraltar
- b) Malta
- c) Portugalia
- d) Włochy

Zad.8 (0 – 1p)

Która z wymienionych niżej wysp nie należy do Azji:

- a) Georgia Pd.
- b) Celebes
- c) Sachalin
- d) Hajnan

Zad.9 (0 – 1p)

Która z wymienionych niżej nizin nie znajduje się w Europie:

- a) Nizina Ocko – Dońska
- b) Nizina Padańska
- c) Nizina Wołoska
- d) Nizina Kołymska

Zad. 10 (0 – 1p)

Które z wymienionych niżej mórz oblewa Australię:

- a) Morze Barentsa
- b) Morze Baffina
- c) Morze Arafura
- d) Morze Sargassowe

Zad.11 (0 – 1p)

Rzeka Nogat płynie przez krainę geograficzną o nazwie:

- a) Pojezierze Suwalskie
- b) Nizina Szczecińska
- c) Pobrzeże Słowińskie
- d) Żuławy Wiślane

Zad.12 (0 – 1p)

Wysokość, którą wyrażamy w metrach i mierzymy ją od podnóża do wierzchołka wzniesienia to wysokość

Zad.13 (0 – 1p)

Miasto: Sri Dżajawardananapura Kotte jest od roku 1982 stolicą państwa o nazwie

Zad.14 (0 – 1p)

Miasto, które jest stolicą Ekwadoru nazywa się

Zad.15 (0 – 1p)

Największa wyspa w archipelagu Baleary to

MIĘDZYSZKOLNY KONKURS GEOGRAFICZNY DLA GIMNAZJALISTÓW
„WĘDRUJEMY PO MAPIE ŚWIATA”

Zad.16 (0 – 1p)

Morze między cieśninami Bosfor i Dardanele to Morze

Zad.17 (0 – 1p)

Zatoka i cieśnina otaczająca półwysep Labrador mają taką samą nazwę. Brzmi ona:

Zatoka

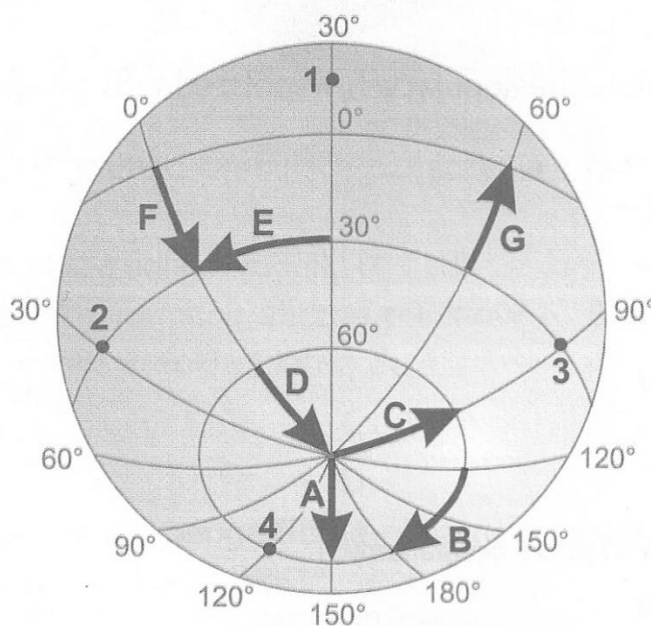
.....

Cieśnina

Zad.18 (0 – 5p)

Napisz nazwy kierunków (stron świata), które wskazują strzałki oznaczone literami: A,B,C,D,E

- A
- B
- C
- D
- E



MIĘDZYSZKOLNY KONKURS GEOGRAFICZNY DLA GIMNAZJALISTÓW
„WĘDRUJEMY PO MAPIE ŚWIATA”

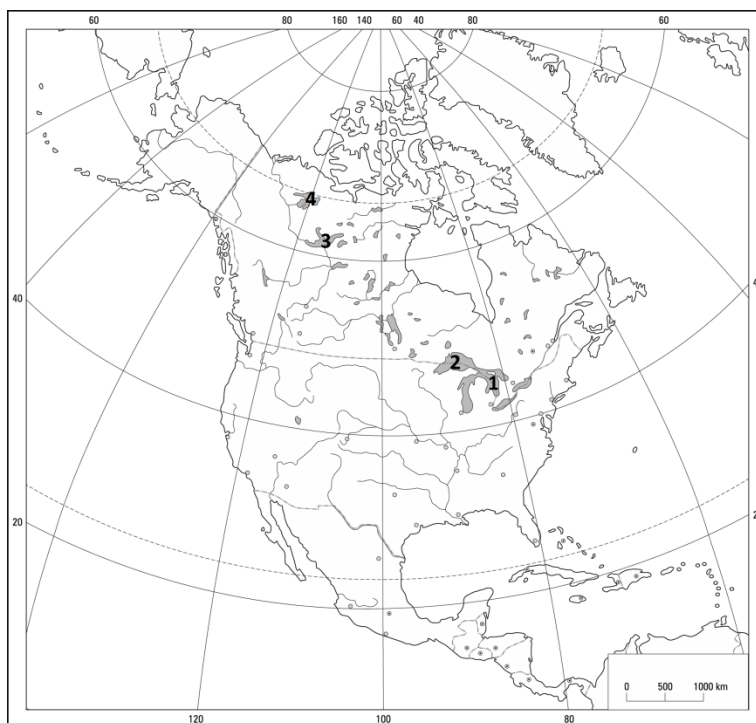
Zad.19 (0 – 4p)

Podaj nazwy państw w których znajdują się niżej wymienione miasta. Wybierz je spośród wymienionych w prawej kolumnie.

<u>miasto:</u>	<u>państwo:</u>	
Durban	A - Brazylia
Sofia	B - Rep. Pd. Afryki
Fortaleza	C - Wenezuela
Caracas	D - Bułgaria
		E – Rumunia

Zad. 20 (0 – 4p)

Podaj nazwy jezior, które na poniższej mapce oznaczono numerami: **1 – 4**. Wybierz je spośród wymienionych w prawej kolumnie.

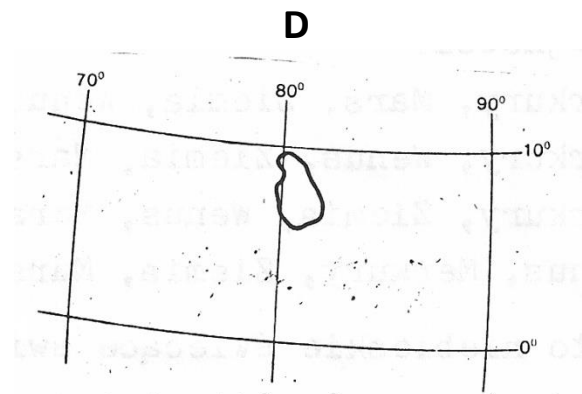
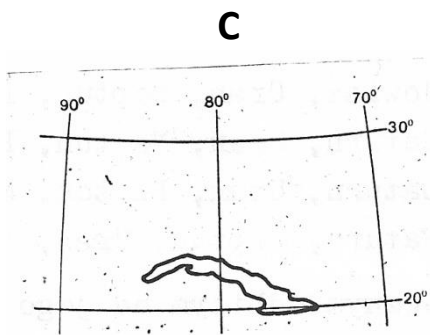
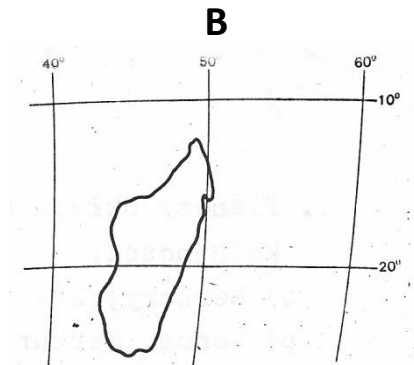
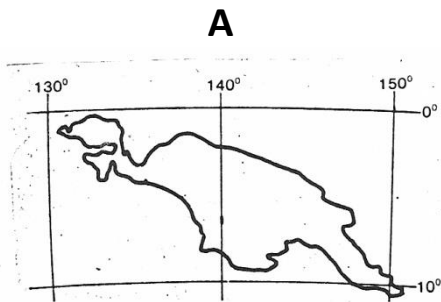


<u>numer:</u>	<u>jeziro:</u>	
1.	A – Jezioro Górne
2.	B – Wielkie Jezioro Niewolnicze
3.	C – Jezioro Huron
4.	D – Jezioro Winnipeg
		E – Wielkie Jezioro Niedźwiedzie

MIĘDZYSZKOLNY KONKURS GEOGRAFICZNY DLA GIMNAZJALISTÓW
„WĘDRUJEMY PO MAPIE ŚWIATA”

Zad.21 (0 – 4p)

Podaj nazwy wysp, które przedstawiono na poniższych fragmentach siatek kartograficznych:



nazwa wyspy:

A

B

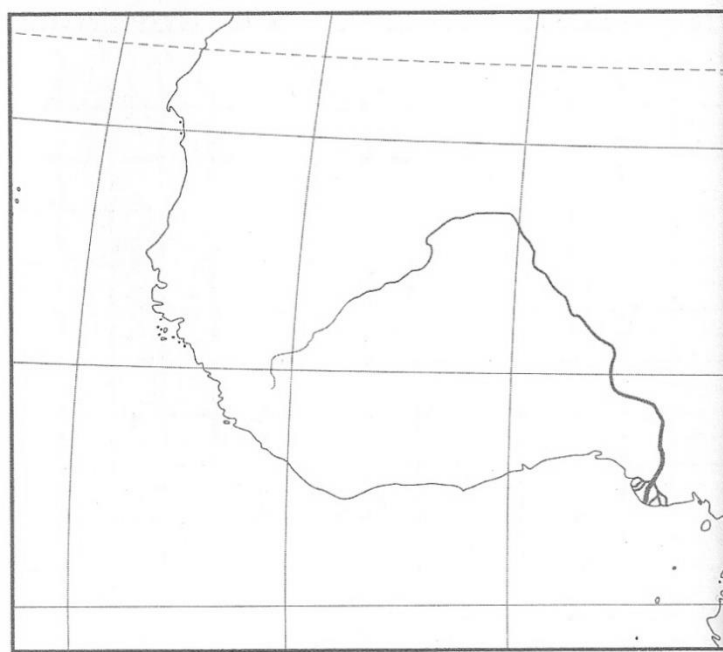
C

D

MIĘDZYSZKOLNY KONKURS GEOGRAFICZNY DLA GIMNAZJALISTÓW
„WĘDRUJEMY PO MAPIE ŚWIATA”

Zad.22 (0 – 1p)

Rozpoznaj rzekę, którą przedstawia poniższy fragment mapki konturowej:



nazwa rzeki:

BRUDNOPIS