

Nazwisko	Imię	Szkoła	Liczba punktów (wypełnia sprawdzający)



XXI LICEUM OGÓLNOKSZTAŁCĄCE

im. św. St. Kostki w Lublinie

WOJEWÓDZKI KONKURS GEOGRAFICZNY

DLA GIMNAZJALISTÓW

„WĘDRUJEMY PO MAPIE ŚWIATA”

Część I

Czas pracy: 30 minut

3 MARZEC

Liczba punktów możliwych

ROK 2018

do uzyskania: **35**

- ❖ Arkusz liczy 9 stron (numerowanych) i zawiera 21 zadań.
- ❖ Przed rozpoczęciem pracy sprawdź czy Twój test jest kompletny. Jeżeli zauważysz usterki, zgłoś je Komisji Konkursowej.
- ❖ W pytaniach w formie testu wyboru wybierz jedną poprawną odpowiedź i ją zakreśl.
- ❖ W pozostałych pytaniach udzielaj krótkich odpowiedzi lub właściwie przyporządkuj podane wyrazy.
- ❖ Pisz długopisem bądź piórem. Nie używaj korektora.

Życzymy powodzenia!



Teresa Misiuk
Lubelski Kurator Oświaty

**PATRONAT
HONOROWY**



PREZYDENT MIASTA LUBLIN
KRZYSZTOF ŻUK

MIĘDZYSZKOLNY KONKURS GEOGRAFICZNY DLA GIMNAZJALISTÓW
„WĘDRUJEMY PO MAPIE ŚWIATA”

Zad.1 (0 – 1p)

Wybierz poprawną odpowiedź, w której skale zostały uszeregowane w kolejności od najmniejszej do największej.

- a) 1: 2500; 1mm – 25cm; 1cm² - 25km²; 1cm – 25km; 10 cm – 2,5km
- b) 1: 2500; 1cm – 25 km; 10cm – 2,5km; 1cm²- 25km²; 1mm – 25cm
- c) 1mm – 25cm; 1:2500; 10cm – 2,5km; 1cm² - 25km²; 1cm – 25 km
- d) 1cm – 25km; 1cm²- 25km²; 10cm – 2,5km; 1:2500; 1mm – 25cm

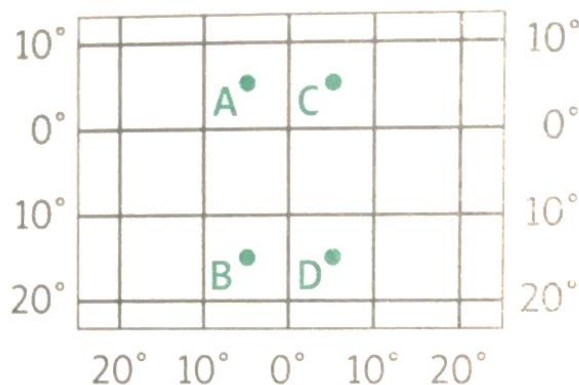
Zad.2 (0 – 1p)

Powierzchnia jeziora wynosi 18 km². Wybierz odpowiedź w której podano powierzchnię tego jeziora na mapie w skali 1: 300 000.

- a) 6 cm²
- b) 2 cm²
- c) 4 cm²
- d) 8 cm²

Zad.3 (0 – 2p)

Na przedstawionym niżej fragmencie siatki kartograficznej naniesiono cztery punkty.



W poniższym zdaniu w dwóch miejscach zaznaczono kursywą po dwie alternatywne odpowiedzi. Skreśl błędne tak aby zdanie było prawdziwe.

Rozciągłość *południkowa/równoleżnikowa* pomiędzy punktami wysuniętymi najdalej na *północ i południe/wschód i zachód* wynosi 10°.

Zad.4 (0 – 1p)

Wybierz metodę kartograficzną, za pomocą której najlepiej przedstawić na mapie rzeźbę terenu.

- a) sygnaturowa
- b) zasięgów
- c) powierzchniowa
- d) izolinii

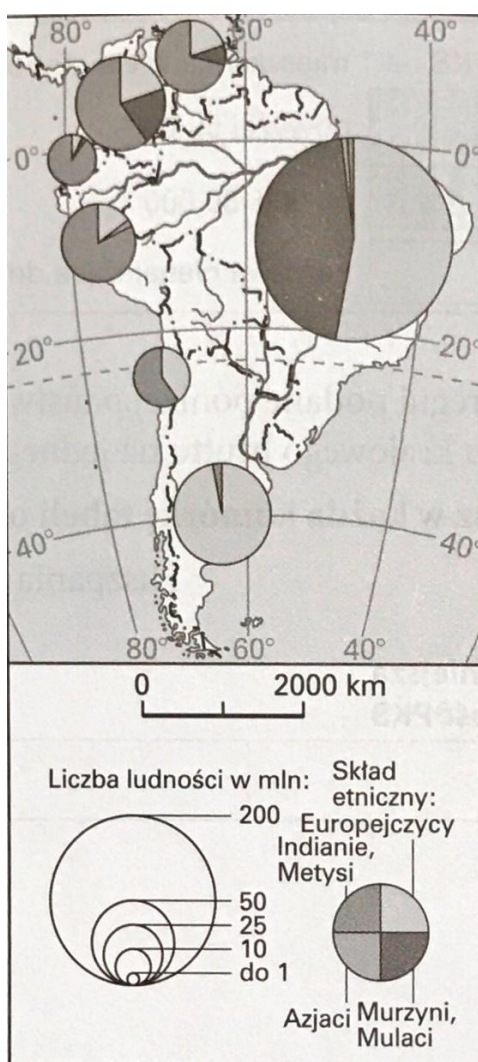
Zad. 5 (0 – 1p)

Które z wymienionych miast położone jest na Wyżynie Śląskiej?

- a) Sosnowiec
- b) Wrocław
- c) Opole
- d) Kielce

Zad. 6 (0 – 3p)

Poniższa mapa przedstawia liczbę ludności i skład etniczny wybranych państw Ameryki Południowej.



Wpisz w każdą lukę poprawne dokończenie zdania.

- I. W Ameryce Południowej krajem o największej liczbie ludności jest
- II. Krajem w którym żyje największa liczba Murzynów i Mulatów jest
- III. Krajem, w którego strukturze ludności największy udział mają Europejczycy, jest

Zad. 7 (0 – 1p)

Podaj jaką metodę kartograficzną zastosowano na mapie w zadaniu nr 6.

Nazwa metody:

Zad. 8 (0 – 1p)

Wybierz poprawną odpowiedź, w której miasta Europy zostały ułożone w kolejności położenia z północy na południe.

- a) Tallin; Oslo; Warszawa; Cordoba; Lyon
- b) Oslo; Tallin; Warszawa; Lyon; Cordoba
- c) Oslo; Warszawa; Tallin; Cordoba; Lyon
- d) Oslo; Tallin; Lyon; Warszawa; Cordoba

Zad. 9 (0 – 1p)

Spośród wymienionych państw wybierz jedno, którego **nie przecina równik**.

- a) Kolumbia
- b) Ekwador
- c) Uganda
- d) Filipiny
- e) Indonezja

Zad. 10 (0 – 1 p)

Wybierz odpowiedź, w której obiekty geograficzne zostały uszeregowane od najdalej wysuniętego na zachód do najdalej wysuniętego na wschód.

- a) Manaus; Góry Atlas; Los Angeles; Borneo; woj. wielkopolskie; Hokkaido; M. Kaspijskie
- b) Los Angeles; Góry Atlas; Manaus; woj. wielkopolskie; Borneo; M. Kaspijskie; Hokkaido
- c) Los Angeles; Manaus; Góry Atlas; woj. wielkopolskie; M. Kaspijskie; Borneo; Hokkaido
- d) Los Angeles; Manaus; woj. wielkopolskie; Góry Atlas; M. Kaspijskie; Hokkaido; Borneo

Zad. 11 (0 – 1p)

Spośród wymienionych państw wybierz jedno, którego **nie przecina Zwrotnik Koziorożca**.

- a) Argentyna
- b) Chile
- c) Nowa Zelandia
- d) Madagaskar
- e) Australia

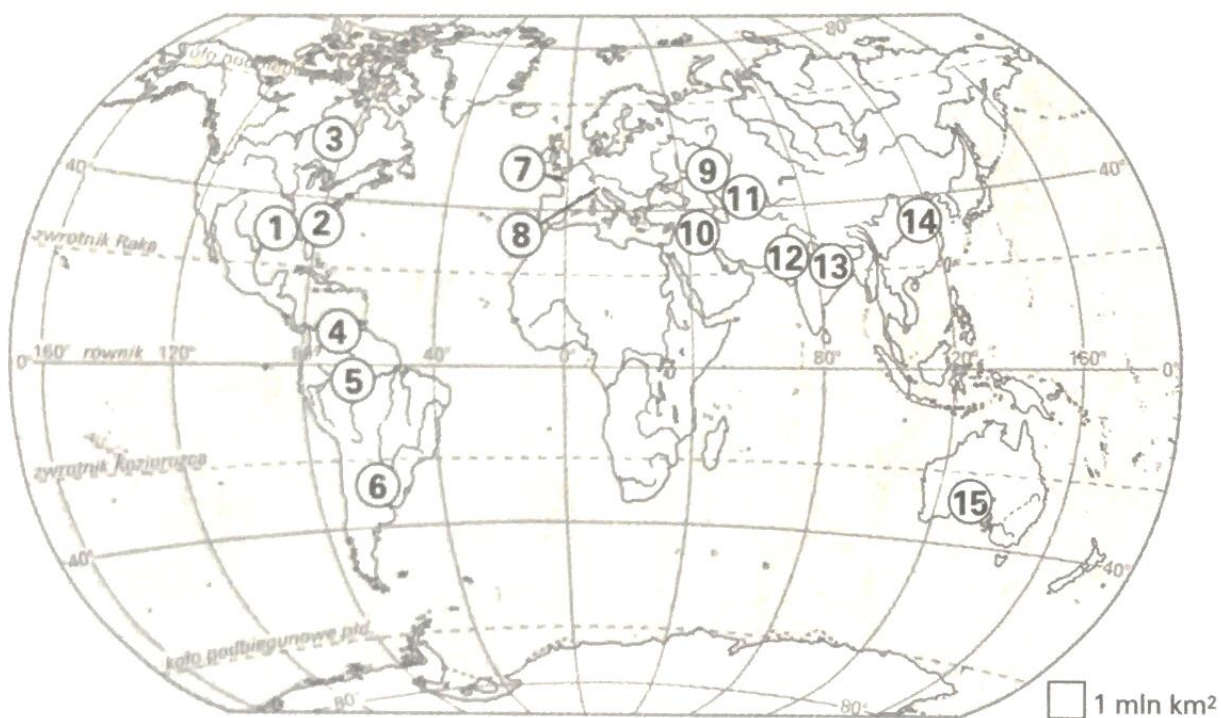
Zad. 12 (0 – 1p)

Wybierz właściwą odpowiedź: **Cieśnina Karimata** łączy:

- a) Morze Jawajskie z Morzem Południowochińskim
- b) Morze Celebes z Morzem Jawajskim
- c) Morze Południowochińskie z Morzem Andamańskim
- d) Morze Południowochińskie z Morzem Filipińskim

Zad. 13 (0 – 3p)

Na mapie numerami od 1 do 15 zaznaczono wybrane niziny.



Wpisz w każdą lukę odpowiedni numer, którym na mapie zaznaczono położenie danej niziny.

- Nizina La Platy
- Nizina Atlantycka
- Nizina Gangesu

Zad. 14 (0 – 1p)

Wybierz poprawną odpowiedź. Skorzystaj z zamieszczonej mapy podziału administracyjnego Polski.



Województwa graniczące z województwem łódzkim to:

- a) wielkopolskie, podkarpackie, mazowieckie
- b) świętokrzyskie, lubelskie, opolskie
- c) mazowieckie, śląskie, kujawsko – pomorskie
- d) dolnośląskie, wielkopolskie, świętokrzyskie

Zad. 15 (0 – 3p)

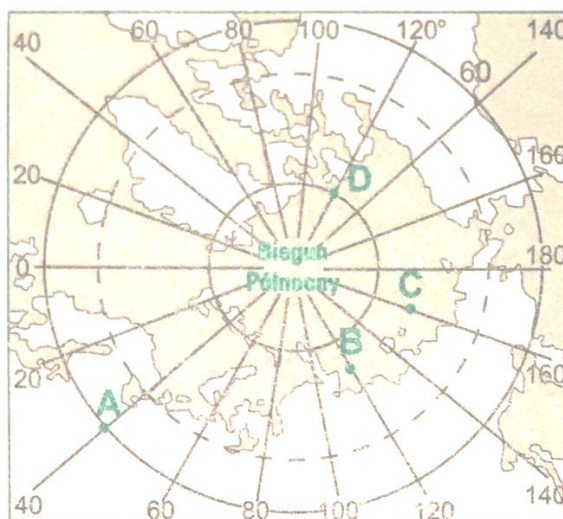
Dopisz nazwy stolic do wymienionych niżej państw:

- 1. Macedonia -
- 2. Cypr -
- 3. Mołdawia -

MIĘDZYSZKOLNY KONKURS GEOGRAFICZNY DLA GIMNAZJALISTÓW
„WĘDRUJEMY PO MAPIE ŚWIATA”

Zad. 16 (0 – 2p)

Na mapie konturowej zaznaczono punkty A – D.



W zadaniu A i B wybierz poprawną odpowiedź.

A. (0 – 1p)

Współrzędne geograficzne punktu D wynoszą.

- a) 80°N, 120°E
- b) 80°S, 120°W
- c) 80°S, 120°E
- d) 80°N, 120°W

B. (0 – 1p)

Poruszając się najkrótszą drogą z punktu B do punktu C, kierujemy się na:

- a) północ
- b) północny – wschód
- c) wschód
- d) północny - zachód

Zad. 17 (0 – 3p)

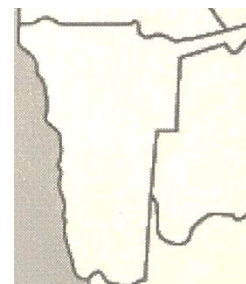
Rozpoznaj państwa po przedstawionym kształcie i podaj ich nazwy.



.....



.....



.....

MIĘDZYSZKOLNY KONKURS GEOGRAFICZNY DLA GIMNAZJALISTÓW
„WĘDRUJEMY PO MAPIE ŚWIATA”

Zad. 18 (0 – 1p)

Poniżej wymieniono 4 państwa. Które z nich nie znajduje się w regionie Bliskiego Wschodu?

- a) Zjednoczone Emiraty Arabskie
- b) Iran
- c) Afganistan
- d) Arabia Saudyjska

Zad. 19 (0 – 3p)

Podaj nazwy kontynentów na których znajdują się wymienione niżej rzeki.

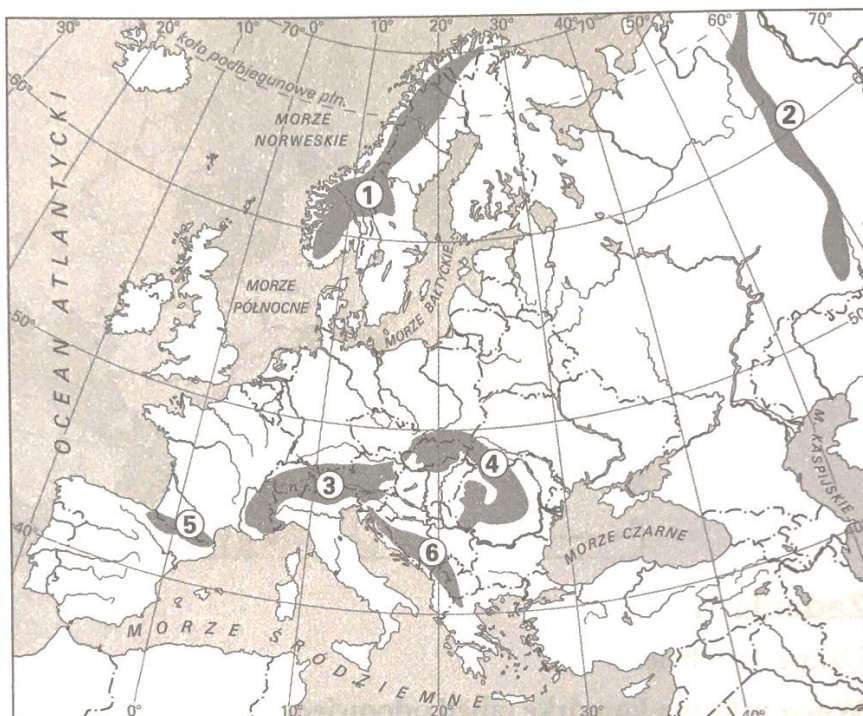
Jukon -

Murray -

Jenisej -

Zadanie 20 (0 – 3 p)

Na mapie numerami od 1 do 6 zaznaczono położenie wybranych pasm górskich.



Podaj nazwy pasm górskich, które oznaczono następującymi cyframi:

1 -

5 -

6 -

Zadanie 21 (0 – 1p)

Podaj nazwę państwa w którym znajduje się **Wyżyna Bawarska**.

Nazwa państwa:

BRUDNOPIS